





Odszukaj na mapie wypisane elementy i wpisz ich pozycję opisaną w poziomie cyfrą a w pionie literą.



statek - .....

skarb - .....

las - .....

sęp - .....

sowa - .....

ognisko - .....

skaty - .....

studnia - .....

samolot - .....

lis - .....

smok - .....

sum- .....

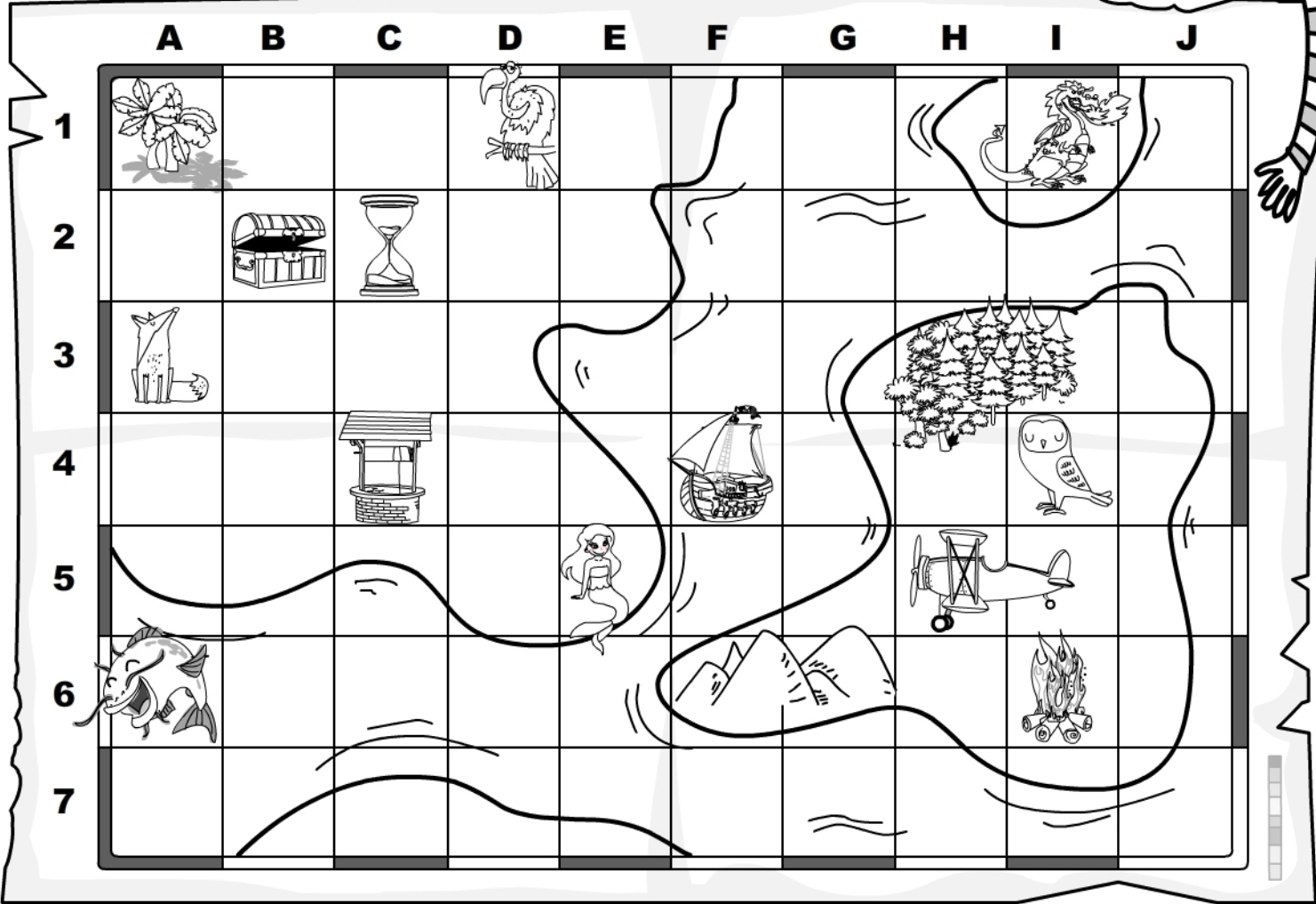
syrena - .....

klepsydra .....





Odszukaj na mapie elementy oznaczone w poziomie cyfrą, a w pionie literą i wpisz ich nazwy.



F4 - .....

C4 - .....

B2 - .....

H5, I5 - .....

H3, H4, I3 - .....

A3 - .....

D1 - .....

I1 - .....

I4 - .....


A6 - .....

I6 - .....

E5 - .....


F6, G6 - .....

C2 - .....





5

Odszukaj na mapie wskazane elementy i wpisz ich pozycję opisaną w poziomie cyfrą, a w pionie literą.



	A	B	C	D	E	F	G	H	I	J
1										
2										
3										
4										
5										
6										
7										

.....  
 .....  
 .....  
 .....  
 .....  
 .....  
 .....  
 .....  
 .....  
 .....  
 .....  
 .....  
 .....  
 .....



	A	B	C	D	E	F	G	H	I	J
1										
2										
3										
4										
5										
6										
7										

