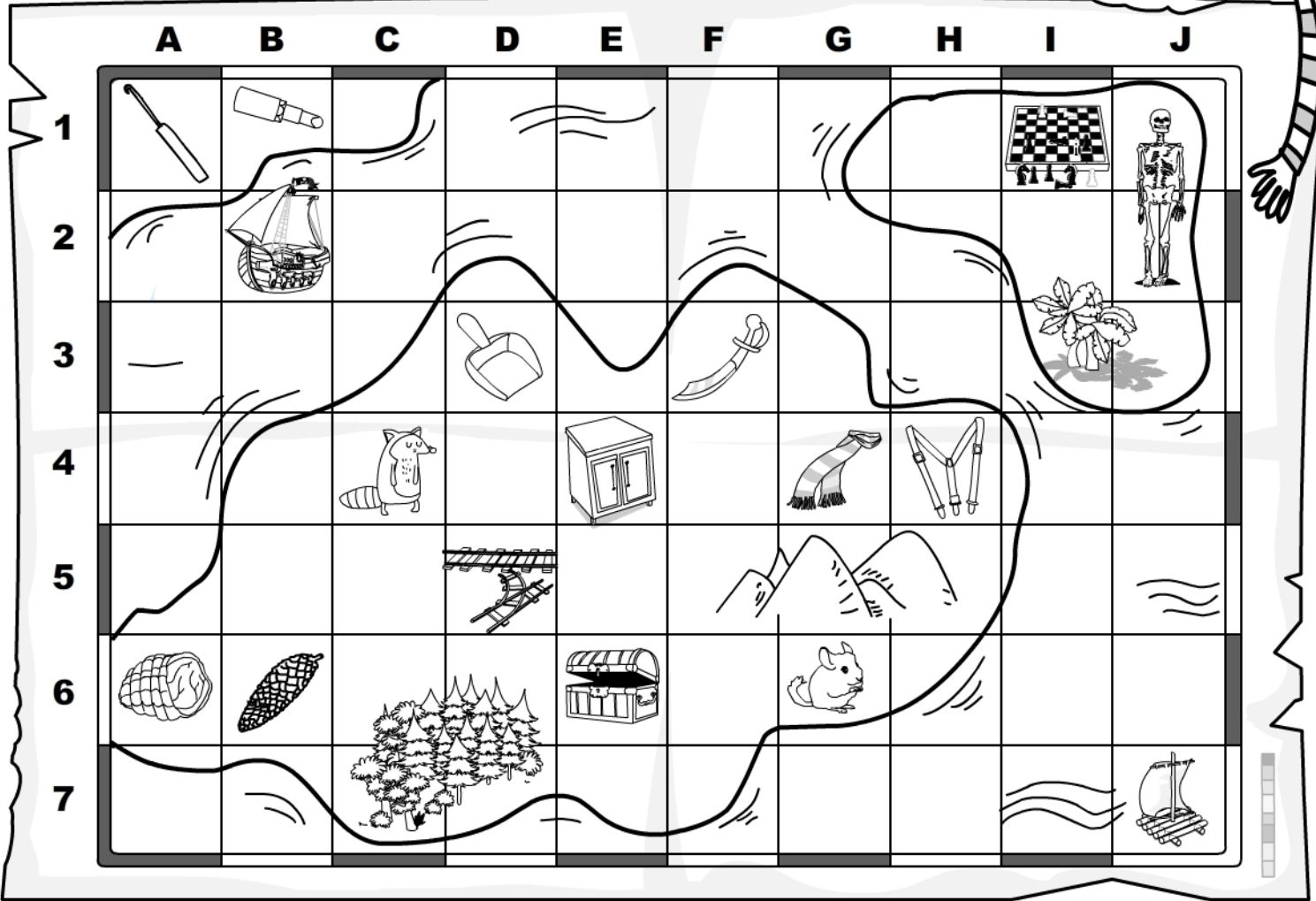


Odszukaj na mapie wypisane elementy i wpisz ich pozycję opisaną w poziomie cyfrą a w pionie literą.



szafka - .....

szop - .....

szynka - .....

szufelka - .....

szynszyla - .....

szminka - .....

szachy - .....

szalik - .....

szabla - .....

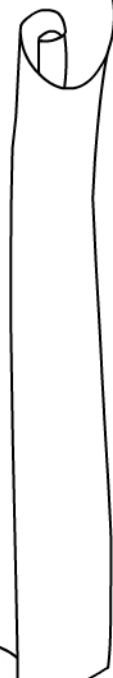
szyszka - .....

szydełko - .....

szelki - .....

szkielet - .....

szyny - .....



Odszukaj na mapie wskazane elementy i wpisz ich pozycję opisaną w poziomie cyfrą, a w pionie literą.



	A	B	C	D	E	F	G	H	I	J
1										
2										
3										
4										
5										
6										
7										



.....



.....




.....



.....



.....



.....



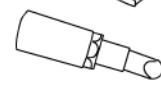
.....



.....



.....



.....




.....



.....



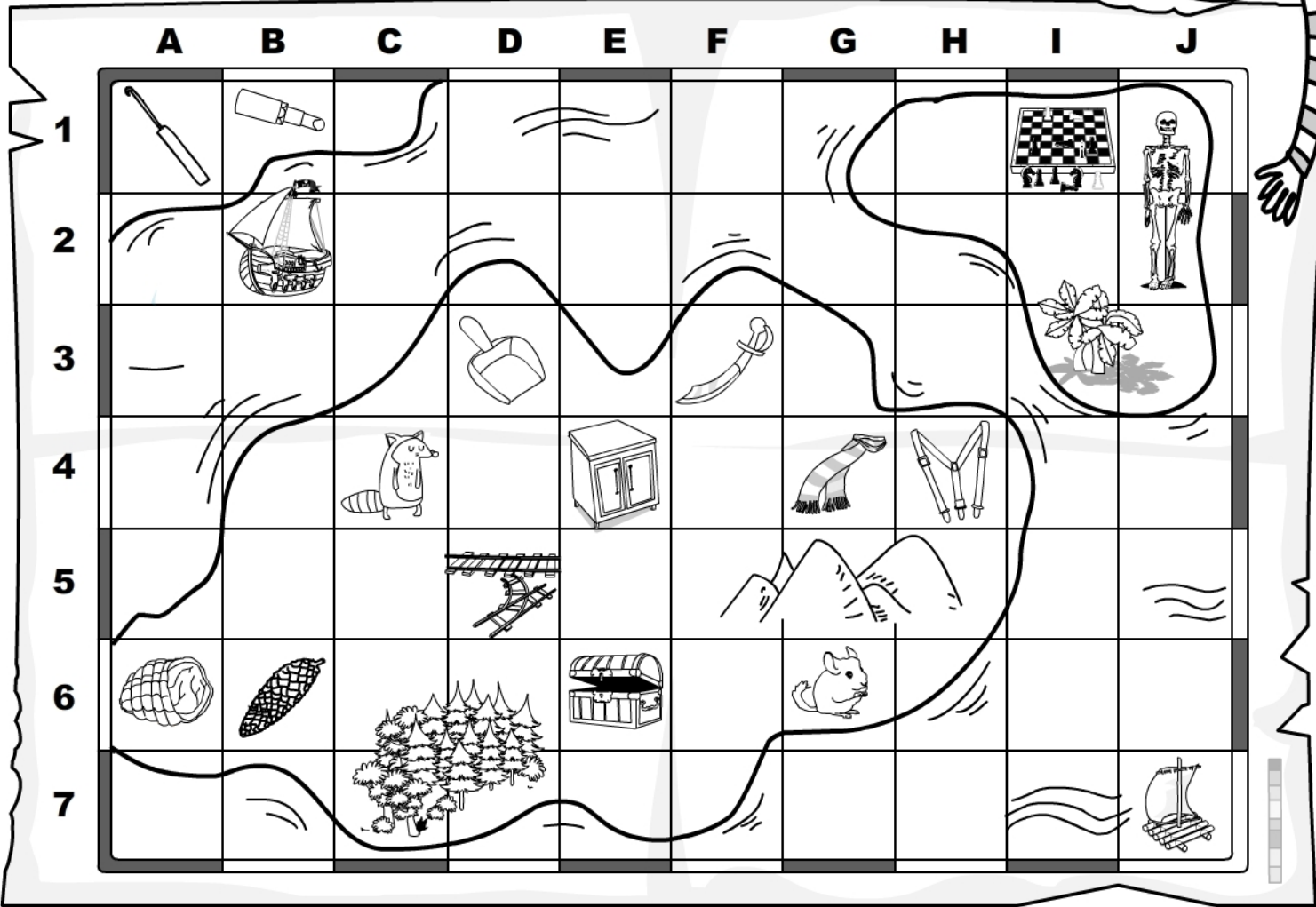

.....



.....



Odszukaj na mapie elementy oznaczone w poziomie cyfrą, a w pionie literą i wpisz ich nazwy.



E4 - .....

C4 - .....

A6 - .....

D3 - .....

G6 - .....

B1 - .....

I1 - .....

G4 - .....

F3 - .....


B6 - .....

A1 - .....

H4 - .....

J1, J2 - .....

D5 - .....



1 SZ

